

IX ВСЕРОССИЙСКАЯ ПОЗНАВАТЕЛЬНАЯ ОЛИМПИАДА
ДЛЯ ДОШКОЛЬНИКОВ “УВЛЕКАТЕЛЬНАЯ МАТЕМАТИКА”

1 Сколько у лягушки лапок?

одна

①

две

②



три

③

четыре

④

2 Какая цифра отсутствует в нумерации лепестков цветка?

2

①

4

②



6

③

7

④

3 На сколько цветов больше, чем бабочек?



① на 1

② на 2

③ на 3

④ на 4

4 Какой математический знак пропущен в примере?

$$6 \dots 4 = 2$$


① +

② -

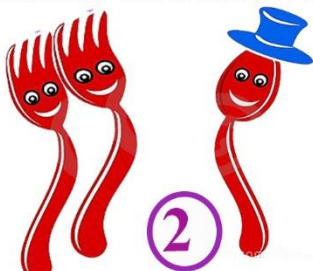
③ :

④ =


5 Какая картинка соответствует примеру: $1 + 2 = 3$




①



②



③



④

IX ВСЕРОССИЙСКАЯ ПОЗНАВАТЕЛЬНАЯ ОЛИМПИАДА
ДЛЯ ДОШКОЛЬНИКОВ “УВЛЕКАТЕЛЬНАЯ МАТЕМАТИКА”

6 На цветке сидело 3 бабочки, 2 из них улетели.
Сколько бабочек осталось на цветке?



7 Трое друзей рыбачили по 2 часа каждый. Сколько часов потратил на рыбалку каждый из мальчиков?

9 часов

7 часов

4 часа

2 часа



8 С помощью чего можно проводить прямые линии?



9 У какой фигуры нет углов?



10 Кто из животных находится справа от ёжика?

