

IV ВСЕРОССИЙСКАЯ ПОЗНАВАТЕЛЬНАЯ ОЛИМПИАДА ДЛЯ ДОШКОЛЬНИКОВ
«ЭЛЕМЕНТАРНАЯ МАТЕМАТИКА»

1 Выберите четное число?

1

①

4

②

5

③

9

④

2 Выполните действие "вычитание" с геометрическими фигурами.



①



②



③



④

3 Обведите карандашом ту запись, которая соответствует рисунку.



$5 - 3 = 2$

①

$5 - 1 = 4$

②

$6 - 3 = 3$

③


$5 - 2 = 3$

④

4 Закрасьте ромб карандашом:



①



②



③



④

5 Какая цифра должна стоять вместо знака «*»

543*1

6

①

4

②

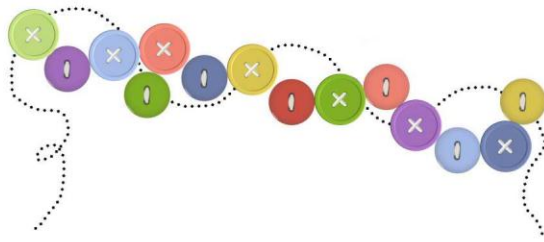
2

③

0

④

6 Сосчитай, сколько пуговиц пришила Маша?



15

①

9

②

12

③

14

④

7 Закрасьте второй квадрат справа.



①

②

③

④

8 Какой предмет самый легкий?



①



②



③



④

9 У ёжика было семь яблок, три он съел. Сколько яблок у него осталось?




①



②



③



④


10 Какой предмет самый длинный?



①



②



③



④